

WIE SPÄT IST ES?

Schreib auf, wie spät es auf den 10 türkisen Uhren ist!

Lies die Sätze genau, sie helfen dir bei dieser Aufgabe! ↘



Es ist viertel drei.



Es ist drei viertel drei.



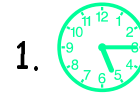
Es ist fünf Minuten vor viertel drei.




Es ist fünf Minuten nach viertel drei.




Es ist fünf Minuten vor drei viertel drei.




1.



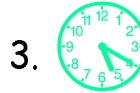
6.



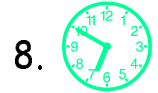
2.




7.



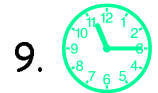
3.




8.




4.



9.




5.



10.

So: 1.  Es ist viertel sechs.

2.  Es ist fünf Minuten v...



1999/2000 ✨ Martina Müller

WIE SPÄT IST ES?

Schreib auf, wie spät es auf den 10 türkisen Uhren ist!

Lies die Sätze genau, sie helfen dir bei dieser Aufgabe! ↘



Es ist viertel elf.



Es ist fünf Minuten nach viertel elf.



Es ist drei viertel sieben.




Es ist fünf Minuten vor drei viertel sieben.



Es ist fünf Minuten nach drei viertel drei.




1.




6.




2.




7.



3.




8.



4.




9.



5.



10.

So: 1.  Es ist viertel drei.

2.  Es ist fünf Minuten n.....



1999/2000 ✨ Martina Müller

WIE SPÄT IST ES?

Schreib auf, wie spät es auf den 10 türkisen Uhren ist!

Lies die Sätze genau, sie helfen dir bei dieser Aufgabe! ➡



Es ist viertel drei.



Es ist drei viertel drei.




Es ist fünf Minuten vor viertel drei.




Es ist fünf Minuten nach viertel drei.




Es ist fünf Minuten vor drei viertel drei.




1.




6.




2.



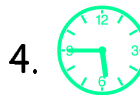
7.




3.



8.




4.



9.




5.



10.

So: 1.  Es ist viertel sechs.

2.  Es ist fünf Minuten v...



1999/2000 ✨ Martina Müller

WIE SPÄT IST ES?

Schreib auf, wie spät es auf den 10 türkisen Uhren ist!

Lies die Sätze genau, sie helfen dir bei dieser Aufgabe! ➡



Es ist viertel elf.



Es ist fünf Minuten nach viertel elf.




Es ist drei viertel sieben.




Es ist fünf Minuten vor drei viertel sieben.




Es ist fünf Minuten nach drei viertel drei.




1.




6.



2.




7.




3.




8.




4.




9.



5.



10.


So: 1.  Es ist viertel drei.

2.  Es ist fünf Minuten n.....



1999/2000 ✨ Martina Müller

WIE SPÄT IST ES?



Schreib auf, wie spät es auf den 10 türkisen Uhren ist!

Lies die Sätze genau, sie helfen dir bei dieser Aufgabe! ➡



Es ist viertel drei.



Es ist drei viertel drei.



Es ist fünf Minuten vor viertel drei.



Es ist fünf Minuten nach viertel drei.



Es ist fünf Minuten vor drei viertel drei.



1.



6.



2.



7.



3.



8.



4.



9.




5.



10.


So: 1. Es ist viertel sechs.

2. Es ist fünf Minuten v...



1999/2000 * Martina Müller

WIE SPÄT IST ES?



Schreib auf, wie spät es auf den 10 türkisen Uhren ist!

Lies die Sätze genau, sie helfen dir bei dieser Aufgabe! ➡



Es ist viertel elf.



Es ist fünf Minuten nach viertel elf.



Es ist drei viertel sieben.



Es ist fünf Minuten vor drei viertel sieben.




Es ist fünf Minuten nach drei viertel drei.



1.



6.



2.



7.



3.



8.



4.



9.




5.



10.

So: 1. Es ist viertel drei.

2. Es ist fünf Minuten n.....



1999/2000 * Martina Müller

WIE SPÄT IST ES?

Schreib auf, wie spät es auf den 10 türkisen Uhren ist!

Lies die Sätze genau, sie helfen dir bei dieser Aufgabe! ↘



Es ist viertel zwölf.



Es ist viertel vier.



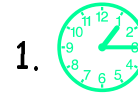
Es ist fünf Minuten vor drei viertel sechs.



Es ist drei viertel sechs.




Es ist fünf Minuten nach drei viertel sechs.




1.

6.



2.

7.



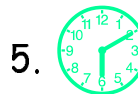
3.

8.



4.

9.



5.

10.

So: 1.  Es ist viertel zwei.

2.  Es ist fünf Minuten n...



1999/2000 ✨ Martina Müller

WIE SPÄT IST ES?

Schreib auf, wie spät es auf den 10 türkisen Uhren ist!

Lies die Sätze genau, sie helfen dir bei dieser Aufgabe! ↘



Es ist drei viertel vier.



Es ist drei viertel drei.



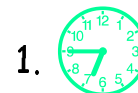
Es ist fünf Minuten nach drei viertel drei.



Es ist viertel elf.




Es ist fünf Minuten vor viertel elf.




1.

6.




2.

7.




3.

8.



4.

9.



5.

10.

So: 1.  Es ist drei viertel sieben.

2.  Es ist fünf Minuten v.....



1999/2000 ✨ Martina Müller


WIE SPÄT IST ES?

Schreib auf, wie spät es auf den 10 türkisen Uhren ist!

Lies die Sätze genau, sie helfen dir bei dieser Aufgabe! ↘



Es ist viertel zwölf.




1.



6.



Es ist viertel vier.




2.



7.



Es ist fünf Minuten vor drei viertel sechs.




3.



8.



Es ist drei viertel sechs.




4.



9.



Es ist fünf Minuten nach drei viertel sechs.



5.



10.

So: 1.  Es ist viertel zwei.

2.  Es ist fünf Minuten n...



1999/2000 * Martina Müller


WIE SPÄT IST ES?

Schreib auf, wie spät es auf den 10 türkisen Uhren ist!

Lies die Sätze genau, sie helfen dir bei dieser Aufgabe! ↘



Es ist drei viertel vier.




1.



6.



Es ist drei viertel drei.




2.



7.



Es ist fünf Minuten nach drei viertel drei.




3.



8.



Es ist viertel elf.




4.



9.



Es ist fünf Minuten vor viertel elf.



5.



10.


So: 1.  Es ist drei viertel sieben.

2.  Es ist fünf Minuten v.....



1999/2000 * Martina Müller

WIE SPÄT IST ES?



Schreib auf, wie spät es auf den 10 türkisen Uhren ist!

Lies die Sätze genau, sie helfen dir bei dieser Aufgabe! ➡



Es ist viertel zwölf.



1.



6.



Es ist viertel vier.



2.



7.



Es ist fünf Minuten vor drei viertel sechs.



3.



8.



Es ist drei viertel sechs.



4.



9.



Es ist fünf Minuten nach drei viertel sechs.



5.



10.

So: 1. Es ist viertel zwei.

2. Es ist fünf Minuten n...



1999/2000 * Martina Müller

WIE SPÄT IST ES?



Schreib auf, wie spät es auf den 10 türkisen Uhren ist!

Lies die Sätze genau, sie helfen dir bei dieser Aufgabe! ➡



Es ist drei viertel vier.



1.



6.



Es ist drei viertel drei.



2.



7.



Es ist fünf Minuten nach drei viertel drei.



3.



8.



Es ist viertel elf.



4.



9.



Es ist fünf Minuten vor viertel elf.



5.



10.

So: 1. Es ist drei viertel sieben.

2. Es ist fünf Minuten v.....



1999/2000 * Martina Müller