

# WIE SPÄT IST ES?



Schreib auf, wie spät es auf den 10 grünen Uhren ist!

Lies die Sätze genau, sie helfen dir bei dieser Aufgabe! ➡



Es ist halb drei.



Es ist fünf Minuten vor halb drei.



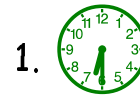
Es ist fünf Minuten nach halb drei.



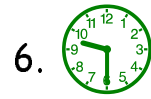
Es ist halb vier.




Es ist fünf Minuten vor halb vier.




1.



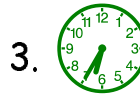
6.



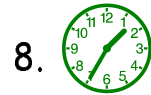
2.



7.




3.



8.




4.



9.




5.



10.

So: 1.  Es ist halb sieben.

2.  Es ist fünf M.....



1999/2000 ✨ Martina Müller

# WIE SPÄT IST ES?



Schreib auf, wie spät es auf den 10 grünen Uhren ist!

Lies die Sätze genau, sie helfen dir bei dieser Aufgabe! ➡



Es ist halb sechs.



Es ist fünf Minuten vor halb sechs.



Es ist fünf Minuten nach halb sechs.



Es ist halb vier.



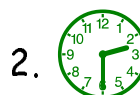
Es ist fünf Minuten vor halb vier.



1.




6.



2.



7.




3.




8.



4.




9.



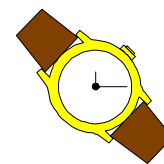
5.



10.

So: 1.  Es ist halb zehn.

2.  Es ist h.....



1999/2000 ✨ Martina Müller

# WIE SPÄT IST ES?

Schreib auf, wie spät es auf den 10 grünen Uhren ist!

Lies die Sätze genau, sie helfen dir bei dieser Aufgabe! ➡



Es ist halb drei.



Es ist fünf Minuten vor halb drei.



Es ist fünf Minuten nach halb drei.



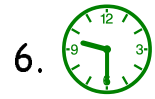
Es ist halb vier.



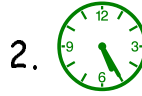
Es ist fünf Minuten vor halb vier.




1.



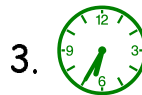
6.



2.



7.



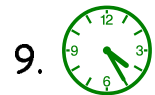
3.



8.




4.



9.




5.



10.

So: 1.  Es ist halb sieben.

2.  Es ist fünf M.....



1999/2000 ✨ Martina Müller

# WIE SPÄT IST ES?

Schreib auf, wie spät es auf den 10 grünen Uhren ist!

Lies die Sätze genau, sie helfen dir bei dieser Aufgabe! ➡



Es ist halb sechs.



Es ist fünf Minuten vor halb sechs.




Es ist fünf Minuten nach halb sechs.



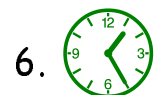
Es ist halb vier.



Es ist fünf Minuten vor halb vier.




1.




6.



2.



7.



3.



8.




4.




9.



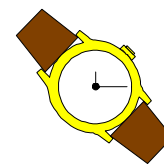
5.



10.

So: 1.  Es ist halb zehn.

2.  Es ist h.....



1999/2000 ✨ Martina Müller

# WIE SPÄT IST ES?



Schreib auf, wie spät es auf den 10 grünen Uhren ist!

Lies die Sätze genau, sie helfen dir bei dieser Aufgabe! ➡



Es ist halb drei.



Es ist fünf Minuten vor halb drei.



Es ist fünf Minuten nach halb drei.



Es ist halb vier.



Es ist fünf Minuten vor halb vier.



1.



6.



2.



7.



3.



8.



4.



9.




5.



10.

So: 1.  Es ist halb sieben.

2.  Es ist fünf M.....



1999/2000 \* Martina Müller

# WIE SPÄT IST ES?



Schreib auf, wie spät es auf den 10 grünen Uhren ist!

Lies die Sätze genau, sie helfen dir bei dieser Aufgabe! ➡



Es ist halb sechs.



Es ist fünf Minuten vor halb sechs.



Es ist fünf Minuten nach halb sechs.



Es ist halb vier.



Es ist fünf Minuten vor halb vier.



1.



6.



2.



7.



3.



8.



4.




9.



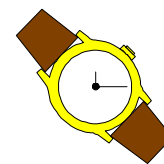
5.



10.

So: 1.  Es ist halb zehn.

2.  Es ist h.....



1999/2000 \* Martina Müller