

WIE SPÄT IST ES?



Schreib auf, wie spät es auf den 10 grünen Uhren ist!

Lies die Sätze genau, sie helfen dir bei dieser Aufgabe! ↘



Es ist halb sechs.



Es ist zehn Minuten vor halb sechs.



Es ist zehn Minuten nach halb sechs.



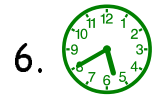
Es ist halb zehn.




Es ist zehn Minuten nach halb zehn.




1.



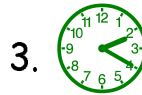
6.



2.



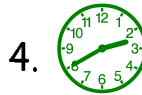
7.



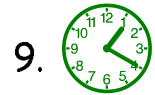
3.



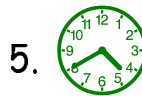
8.



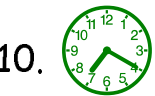
4.




9.



5.



10.

So: 1.  Es ist halb vier.

2.  Es ist h.....



1999/2000 ✨ Martina Müller

WIE SPÄT IST ES?



Schreib auf, wie spät es auf den 10 grünen Uhren ist!

Lies die Sätze genau, sie helfen dir bei dieser Aufgabe! ↘



Es ist halb drei.



Es ist zehn Minuten vor halb drei.



Es ist zehn Minuten nach halb drei.



Es ist halb sieben.




Es ist zehn Minuten nach halb sieben.




1.




6.



2.



7.



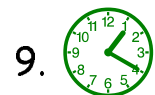
3.



8.




4.



9.



5.



10.

So: 1.  Es ist halb zehn.

2.  Es ist zehn M.....



1999/2000 ✨ Martina Müller

WIE SPÄT IST ES?

Schreib auf, wie spät es auf den 10 grünen Uhren ist!

Lies die Sätze genau, sie helfen dir bei dieser Aufgabe! ↘



Es ist halb sechs.



Es ist zehn Minuten vor halb sechs.



Es ist zehn Minuten nach halb sechs.



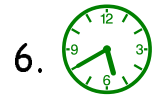
Es ist halb zehn.



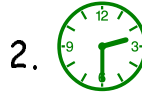
Es ist zehn Minuten nach halb zehn.



1.



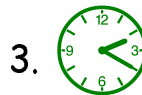
6.




2.



7.




3.



8.



4.




9.



5.



10.

So: 1.  Es ist halb vier.

2.  Es ist h.....



1999/2000 * Martina Müller

WIE SPÄT IST ES?

Schreib auf, wie spät es auf den 10 grünen Uhren ist!

Lies die Sätze genau, sie helfen dir bei dieser Aufgabe! ↘



Es ist halb drei.



Es ist zehn Minuten vor halb drei.



Es ist zehn Minuten nach halb drei.



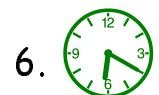
Es ist halb sieben.




Es ist zehn Minuten nach halb sieben.




1.




6.



2.



7.



3.



8.



4.




9.



5.



10.


So: 1.  Es ist halb zehn.

2.  Es ist zehn M.....



1999/2000 * Martina Müller

WIE SPÄT IST ES?



Schreib auf, wie spät es auf den 10 grünen Uhren ist!

Lies die Sätze genau, sie helfen dir bei dieser Aufgabe! ➡



Es ist halb sechs.



Es ist zehn Minuten vor halb sechs.



Es ist zehn Minuten nach halb sechs.



Es ist halb zehn.



Es ist zehn Minuten nach halb zehn.



1.



2.



3.



4.



5.



6.



7.




8.



9.



10.


So: 1.  Es ist halb vier.

2.  Es ist h.....



1999/2000 * Martina Müller

WIE SPÄT IST ES?



Schreib auf, wie spät es auf den 10 grünen Uhren ist!

Lies die Sätze genau, sie helfen dir bei dieser Aufgabe! ➡



Es ist halb drei.



Es ist zehn Minuten vor halb drei.



Es ist zehn Minuten nach halb drei.



Es ist halb sieben.



Es ist zehn Minuten nach halb sieben.



1.



2.



3.



4.



5.



6.



7.




8.



9.



10.

So: 1.  Es ist halb zehn.

2.  Es ist zehn M.....



1999/2000 * Martina Müller