

Flugmeilen

Anleitung:

Herstellung:

Seite B1 muss (rechts und links) auf A1 geklammert werden. Seite B2 auf A2 usw.

Erklärung:

Die leichten Sachrechnungen sind mit einem schwarzen Flugzeug, die schweren Sachrechnungen mit einem bunten Flugzeug gekennzeichnet.

Anwendung:

Die Schüler müssen, bevor sie eine Rechnung rechnen, das Flugticket öffnen (mit einer Schere auf beiden Seiten aufschneiden) und in ihr Mathematikheft kleben. Danach können sie unter dem Ticket die Rechnung lösen.

Kontrolle:

Die Schüler können nach der Rückgabe des Heftes die richtig gerechneten Flugmeilen auf der [Flugmeilenliste](#) ankreuzen. So kann jeder Schüler auf einem Blick sehen welche Flugtickets er schon erhalten hat.





Für jede richtig gerechnete Sachrechnung gibt es auch am [Flugmeilenplakat](#) einen Punkt (= Flugmeile). Hat man 10 Flugmeilen gesammelt, kann man bereits die erste Destination anfliegen.





Zur Motivation meiner Schüler überreichte ich ihnen Postkarten bzw. Bilder von den Destinationen. Einige Kinder regte es auch an die europäischen Städte auf der Landkarte zu suchen.

A1

	<p>Nr.1</p> <p>In einem Korb sind 5 Äpfel. Opa legt noch 2 Äpfel dazu. Wie viele Äpfel sind im Korb?</p>	
	<p>Nr.3</p> <p>Sarah hat 12 rote Kugeln. Sie gewinnt 4 gelbe Kugeln dazu. Wie viele Kugeln hat sie jetzt?</p>	
	<p>Nr.5</p> <p>Ein Hemd kostet 20 €. Herr Klein hat 30 €. Er kauft ein Hemd. Wie viel € bleiben übrig?</p>	
	<p>Nr.7</p> <p>Petra hat 50€. Ihr Opa schenkt ihr 30 € Wie viel € hat Petra jetzt?</p>	

	<p>Nr.2</p> <p>In einer Pfanne sind 10 Knödel. Oma nimmt drei Knödel weg. Wie viele Knödel sind in der Pfanne?</p>	
	<p>Nr.4</p> <p>Emre hat 14 grüne Kugeln. Er verschenkt 2 Kugeln. Wie viele Kugeln hat Emre?</p>	
	<p>Nr.6</p> <p>Ein Pullover kostet 50 €. Eine Bluse kostet 40 €. Herr Huber kauft für sich einen Pullover und für seine Frau eine Bluse. Wie viel bezahlt Herr Huber?</p>	
	<p>Nr.8</p> <p>Lorenz hat 60 € Er borgt seiner Schwester 20 €. Wie viel € hat Lorenz jetzt nur noch?</p>	





Nr. 1		
Nr. 3		
Nr. 5		
Nr. 7		




Nr. 2		
Nr. 4		
Nr. 6		
Nr. 8		

A1

<p>Nr.9</p>	<p>Toni hat 24 Fische in seinem Aquarium. Zum Geburtstag schenkt Opa ihm 5 neue Fische. Wie viele Fische hat Toni jetzt?</p>	
<p>Nr.11</p>	<p>Susi, Walter und Thomas essen bei den Großeltern. Oma macht für jedes Kind 2 Marillenknödel. Wie viel Marillenknödel macht Oma?</p>	
<p>Nr.13</p>	<p>Karli und Peter sammeln Kastanien. Karli sammelt 30 Kastanien. Peter sammelt 50 Kastanien. Wie viele Kastanien haben die Buben zusammen gesammelt?</p>	
<p>Nr.15</p>	<p>Georg und Babsi suchen Schwammerl im Wald. Georg findet 10 Schwammerl. Babsi nur halb so viele. Wie viele Schwammerl pflücken die Kinder?</p>	

<p>Nr.10</p>	<p>Rudi hat 40 € auf seinem Sparschwein. Zum Geburtstag schenkt ihm Mama 30 €. Wie viele Euro hat Rudi?</p>	
<p>Nr.12</p>	<p>Herr Müller kauft sich neue Kleidung. Er kauft ein Hemd um 20 €, ein T-Shirt um 10 € und eine Hose um 70 €. Wie viel bezahlt Herr Müller?</p>	
<p>Nr.14</p>	<p>Der Sturm hat Nüsse vom Baum gerissen. Karin hat 20 Nüsse gesammelt. Patrick hat doppelt so viele Nüsse gesammelt. Wie viele Nüsse haben die Kinder zusammen gesammelt?</p>	
<p>Nr.16</p>	<p>Mama macht Zwetschkenknödel. Für Papa und sich macht sie <u>jeweils</u> 4 Knödel. Für die Kinder macht sie sechs Knödel. Wie viele Knödel macht Mama?</p>	

	Nr. 9	
	Nr. 11	
	Nr. 13	
	Nr. 15	

	Nr.10	
	Nr. 12	
	Nr. 14	
	Nr. 16	