

1

## Wie viel Geld haben die Kinder?



Aleksandra



4      2  
42 Cent



Dominik



Florian



Sarah



Antwort: Dominik hat ...! Florian hat ...! Sarah hat ...!

2

## Rechnen mit Cent

$65 \text{ c} + 5 \text{ c} =$

$36 \text{ c} + \underline{\quad} = 39 \text{ c}$

$60 \text{ c} - 4 \text{ c} =$

$93 \text{ c} + 7 \text{ c} =$

$73 \text{ c} + \underline{\quad} = 80 \text{ c}$

$44 \text{ c} - 3 \text{ c} =$

$52 \text{ c} + 7 \text{ c} =$

$17 \text{ c} + \underline{\quad} = 20 \text{ c}$

$80 \text{ c} - 9 \text{ c} =$

$36 \text{ c} + 4 \text{ c} =$

$20 \text{ c} + \underline{\quad} = 30 \text{ c}$

$78 \text{ c} - 8 \text{ c} =$

$60 \text{ c} + 9 \text{ c} =$

$5 \text{ c} + \underline{\quad} = 10 \text{ c}$

$20 \text{ c} - 7 \text{ c} =$



3

## Ergänze auf 1 €

$$1 \text{ €} = 100 \text{ c}$$

$$54 \text{ c} + \underline{\quad\quad} = 1 \text{ €}$$

$$36 \text{ c} + \underline{\quad\quad} = 1 \text{ €}$$

$$27 \text{ c} + \underline{\quad\quad} = 1 \text{ €}$$

$$11 \text{ c} + \underline{\quad\quad} = 1 \text{ €}$$

$$100 \text{ c} + \underline{\quad\quad} = 1 \text{ €}$$

$$0 \text{ c} + \underline{\quad\quad} = 1 \text{ €}$$

$$95 \text{ c} + \underline{\quad\quad} = 1 \text{ €}$$

$$82 \text{ c} + \underline{\quad\quad} = 1 \text{ €}$$

$$78 \text{ c} + \underline{\quad\quad} = 1 \text{ €}$$

$$60 \text{ c} + \underline{\quad\quad} = 1 \text{ €}$$

$$43 \text{ c} + \underline{\quad\quad} = 1 \text{ €}$$

$$89 \text{ c} + \underline{\quad\quad} = 1 \text{ €}$$

4

## Geld zählen

Jakob zählt seine 10-Euro-Scheine.  
Es sind 7 Scheine. Wie viel Geld hat Jakob?



Antwort: Jakob hat ...



Janine zählt ihre 5-Euro-Scheine.  
Sie hat 5 Scheine. Wie viel Geld hat Janine?

Antwort: Janine hat ...




5

## Sparen 1

Milan hat 50 € auf seinem Sparbuch. Sein Opa schenkt ihm 20 € zum Geburtstag.

Milan zahlt das Geld auf sein Sparbuch ein.

Wie viel Euro hat er jetzt auf seinem Sparbuch?




Antwort: Milan hat jetzt ...

6

## Sparen 2

Markus hat schon 30 € in seinem Sparschwein gespart.  
Seine Oma schenkt ihm 15 €, auf der Straße findet er 5 €.  
Wie viel Euro hat er jetzt?



Antwort: Markus hat schon ...


7

## Geld ausgeben 1

Dominik hat 50 € auf seinem Sparbuch.

Er kauft sich einen Fußball um 20 €. Er hebt dafür Geld vom Sparbuch ab.

Wie viel Euro hat er dann nur mehr auf seinem Sparbuch?




Antwort: Dominik hat nur mehr ...

8

## Geld ausgeben 2

Claudia hat 70 € gespart. Sie kauft eine Puppe um 25 €  
und ein Buch um 10 €.

Wie viel Euro hat sie nur mehr?




Antwort: Claudia hat nur mehr ...



9

## Im Spielzeuggeschäft 1

Die Eltern kaufen ihren Kindern Spielsachen.



60 €



30 €



20 €



10 €



50 €



40 €


Richard bekommt ein Schiff, einen Bären und einen Ball.  
Wie viel Euro zahlt seine Mutter?

Antwort: Seine Mutter zahlt ...

10

## Im Spielzeuggeschäft 1

Die Eltern kaufen ihren Kindern Spielsachen.



60 €




30 €



20 €



10 €



50 €



40 €


Muhammed bekommt ein Schaukelpferd und ein Auto.  
Wie viel Euro zahlt seine Mutter?

Antwort: Seine Mutter zahlt ...

11

## Im Spielzeuggeschäft 3

Die Eltern kaufen ihren Kindern Spielsachen.



60 €



30 €



20 €



10 €



50 €



40 €

Lea wünscht sich eine Puppe und einen Bären. Ihre Mutter bezahlt mit einem 100 €-Schein.


Wie viel Euro bekommt sie zurück?

Antwort: Sie bekommt ...

12

## Im Spielzeuggeschäft 4

Die Eltern kaufen ihren Kindern Spielsachen.



60 €



30 €



20 €



10 €



50 €



40 €

Jakobs Mutter gibt der Verkäuferin zwei 50 €-Scheine.  
Sie hat ein Schaukelpferd und einen Bären gekauft.  
Wie viel Euro bekommt sie zurück?

Antwort: Sie bekommt ...

13


## In der Geldbörse 1

Ewa zählt das Geld in ihrer Börse.  
Hilf ihr doch dabei:



Antwort: Ewa hat ...

## In der Geldbörse 2



Sarah geht einkaufen. Vorher zählt sie genau, wie viel Geld sie noch hat.

Wie viel Geld hat Sarah?




Antwort: Sarah hat ...

15


## Auf dem Markt

1 Euro ist 100 Cent wert.

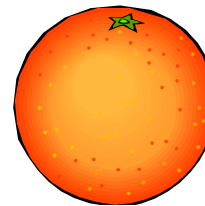
Welche Früchte kosten zusammen 1 Euro (100 Cent)?




40 Cent




20 Cent




10 Cent



50 Cent



30 Cent



60 Cent

16

## Geld zählen 1

Wie viel Geld ist das zusammen?  
Zähle zuerst und schreibe dann die Menge auf!



Antwort: Es sind ..... Euro!



17

## Geld zählen 2

Wie viel Geld ist das zusammen?  
Zähle zuerst und schreibe dann die Menge auf!



Antwort: Es sind ..... Euro!

18

## Teilen

Die Brüder Florian und Patrick bekommen von ihrer Oma zusammen 60 Euro! Sie teilen gerecht.

Jeder bekommt daher .... €

Patrick steckt sein Geld in seine Sparkasse, Florian kauft sich ein Spielzeugauto um 12 €

Wie viel Euro kann Florian noch in sein Sparschwein geben?



Antwort: Florian kann noch ...

19

## Aufteilen 1

Onkel Tom ist ein Spaßvogel. Er schenkt Mert, Ebru und Serap zwölf 1 €-Münzen.

Wie viel Euro bekommt ein Kind?



Antwort: Ein Kind bekommt ...

20

## Aufteilen 2

1.) Stefan und Richard sollen sich 14 Euro gerecht teilen.  
Wie viel erhält jedes Kind?

Antwort: Jedes Kind erhält ...

2.) Oma hat ihren 2 Enkelkindern 20 Euro mitgebracht.  
Wie viel Geld erhält jedes Kind?

Antwort: Jedes Kind erhält ...



21

## Im Prater 1

Markus fährt mit der Hochschaubahn viermal zu je 2 Euro.  
Wie viel Geld gibt Markus aus?



Antwort: Markus zahlt ...

Sarah fährt zweimal mit dem Riesenrad. Eine Fahrt kostet  
5 Euro.

Wie viel Geld braucht Sarah?

Antwort: Sie braucht ...

22

## Im Prater 2

Eine Fahrkarte für die Liliputbahn kostet 10 €. Kinder zahlen nur die Hälfte. Herr Wagner und seine Frau und ihre 3 Kinder fahren eine Runde.

Wie viel Euro zahlt Herr Wagner für die ganze Familie?

Antwort: Herr Wagner zahlt ...




23

## Geburtstag

Daniel und Markus sind Zwillinge und haben Geburtstag.  
Der Opa schenkt ihnen 12 Euro, die Oma gibt noch 8 Euro dazu.

Die Zwillinge teilen das Geld.

Wie viel Euro bekommt jedes Kind?



Antwort: Jedes Kind bekommt ...

24

## Preisausschreiben

6 Kinder haben bei einem Preisausschreiben der Spatzenpost gewonnen. So viel € gibt es für alle:



Die Kinder **teilen** gerecht.  
Wie viel Euro bekommt jedes Kind?

Antwort: Jedes Kind bekommt ...



25

## Teddybär






Ein Teddybär kostet 6 €. Janine hat 18 €.  
Wie viele Teddybären kann sie kaufen?

Rechne: 6 € in 18 € = \_\_\_\_\_ mal



Antwort: Janine kann ...

## Einkaufen 1

	kauft	bezahlt mit	erhält zurück
Daniel	Radiergummi <b>45 c</b>		
Milan	Stifte <b>72 c</b>		
Sarah	Block <b>1 €65 c</b>		
Mert	Pickerln <b>1 €14 c</b>		
Ewa	Spitzer <b>95 c</b>		


27

## Beim Bäcker

1.) Beim Bäcker Müller kostet ein Laib Brot 2 € 60 c. Beim Bäcker Huber kostet ein Laib Brot 2 € 90 c.

Um wie viel c ist das Brot beim Bäcker Müller billiger?

Antwort: Beim Bäcker Müller ...




2.) Frau Ludwig kauft beim Bäcker eine Semmel um 30 c, ein halbes Brot um 1 € 20 c und eine Brezel um 50 c.

Wie viel muss sie bezahlen?



Antwort: Sie muss ...

## Kekse



Eine Schachtel mit Keksen kostet 3 Euro.

Aleks hat 9 Euro.

Wie viele Schachteln Kekse kann sie kaufen?

Antwort: Aleks kann ...

Muhammed hat einen 10-Euro-Schein und einen 5-Euro-Schein und eine 2 €-Münze und eine 1 €-Münze.

Wie viele Schachteln kann er kaufen?

Antwort: Muhammed kann ...

29

## Im Fasching

Ein Clownkostüm für Serap kostet 30 €,  
ein Hexenkostüm für Ebru 28 €.

Das Indianerkostüm für Markus kostet  
um 2 € mehr als das Clownkostüm.

Wie viel kosten alle Kostüme  
zusammen?



Antwort: Alle Kostüme kosten ...

30

## Sparen 3

Philip hat 30 € gespart, sein Freund Milan hat um 23 € mehr gespart. Veronika hat acht 10-Euro-Scheine und drei 1 €-Münzen im Sparschwein.

- 1.) Wie viel Euro haben die Buben zusammen gespart?
- 2.) Wie viel Euro hat Veronika in ihrem Sparschwein?
- 3.) Hat Julia mehr Geld als die Buben?

1. Antwort: Die Buben ...

2. Antwort: Veronika hat ...

3. Antwort:

ja

nein

