

Mein



Euro- Buch




## Stationenplan:

Station		Station	
Eurozeichen		Europa (Karte und Fahne)	
Geldschein-Puzzle		AB Münzen	
Münzprägen und Zeichnen		Rechnen mit dem Euro	

von:

---




## Bemale dein €-Zeichen!

Schreib in jedes Kästchen ein €-Zeichen!

€				
		€		

Male hier Euro- und Cent Münzen ab!  
Lege eine Münze unter das Blatt und streiche  
mit dem Buntstift leicht darüber!




## Europa


Male Österreich rot an! Bemale die Karte!








Bemale die Europaflagge!



Klebe Münzen ein und bemale richtig!  
Beginne mit 1 Cent und werde größer!

		
	2Cent	5Cent
10Cent	20Cent	50 Cent
1 Euro	2 Euro	

Rechne:

	_____ €
	_____ €
	_____ €
	_____ €
	_____ €

$$2 \text{ €} + \text{_____} \text{ €} = 8 \text{ €}$$

$$9 \text{ €} - 3 \text{ €} = \text{_____}$$

$$6 \text{ €} - \text{_____} \text{ €} = 2 \text{ €}$$

$$8 \text{ €} + 2 \text{ €} = \text{_____}$$

$$3 \text{ €} + 5 \text{ €} = \text{_____}$$

$$7 \text{ €} - \text{_____} \text{ €} = 0 \text{ €}$$

$$2 \text{ €} + 6 \text{ €} = \text{_____}$$

$$5 \text{ €} = \text{_____} \text{ €} - 1 \text{ €}$$

Bemale richtig!

