

WIE SPÄT IST ES?



Schreib auf, wie spät es auf den 10 blauen Uhren ist!

Lies die Sätze genau, sie helfen dir bei dieser Aufgabe! ➡



Es ist ein Uhr.



Es ist zwei Uhr.



Es ist drei Uhr.



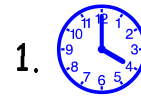
Es ist fünf Minuten vor drei Uhr.



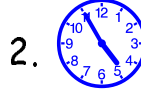
Es ist fünf Minuten nach drei Uhr.

So: 1.  Es ist vier Uhr.

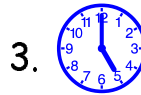
2.  Es ist fünf M.....



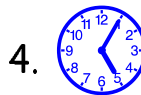
1.



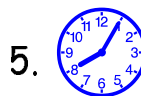
2.



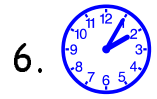
3.



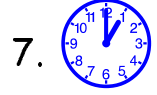
4.



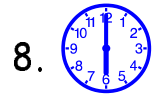
5.



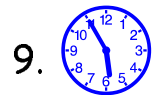
6.



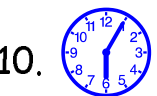
7.



8.



9.



10.



1999/2000 ✨ Martina Müller

WIE SPÄT IST ES?



Schreib auf, wie spät es auf den 10 blauen Uhren ist!

Lies die Sätze genau, sie helfen dir bei dieser Aufgabe! ➡



Es ist fünf Uhr.



Es ist sechs Uhr.



Es ist fünf Minuten vor sechs Uhr.



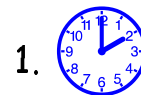
Es ist fünf Minuten nach sechs Uhr.



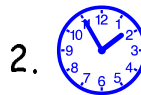
Es ist fünf Minuten nach acht Uhr.

So: 1.  Es ist zwei Uhr.

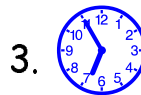
2.  Es ist fünf M.....



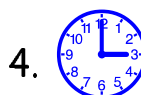
1.




2.



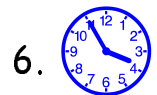
3.



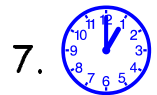
4.



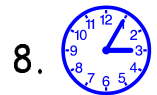
5.



6.



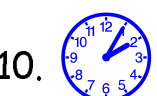
7.



8.



9.



10.



1999/2000 ✨ Martina Müller

WIE SPÄT IST ES?

Schreib auf, wie spät es auf den 10 blauen Uhren ist!

Lies die Sätze genau, sie helfen dir bei dieser Aufgabe! ➡



Es ist ein Uhr.



Es ist zwei Uhr.



Es ist drei Uhr.



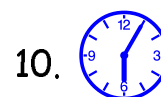

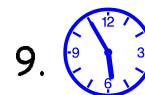

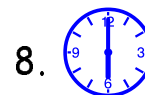
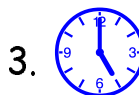
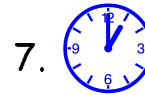
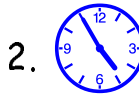
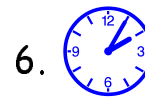
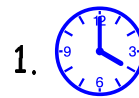
Es ist fünf Minuten vor drei Uhr.



Es ist fünf Minuten nach drei Uhr.

So: 1.  Es ist vier Uhr.

2.  Es ist f.....



1999/2000 ✨ Martina Müller

WIE SPÄT IST ES?

Schreib auf, wie spät es auf den 10 blauen Uhren ist!

Lies die Sätze genau, sie helfen dir bei dieser Aufgabe! ➡



Es ist fünf Uhr.



Es ist sechs Uhr.




Es ist fünf Minuten vor sechs Uhr.




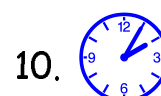

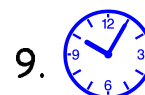
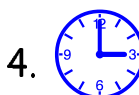
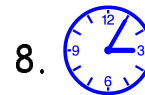
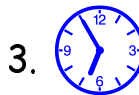
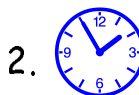
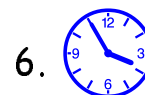

Es ist fünf Minuten nach sechs Uhr.



Es ist fünf Minuten nach acht Uhr.


So: 1.  Es ist zwei Uhr.

2.  Es ist fünf M.....



1999/2000 ✨ Martina Müller

WIE SPÄT IST ES?



Schreib auf, wie spät es auf den 10 blauen Uhren ist!

Lies die Sätze genau, sie helfen dir bei dieser Aufgabe! ➡



Es ist ein Uhr.



Es ist zwei Uhr.



Es ist drei Uhr.



Es ist fünf Minuten vor drei Uhr.



Es ist fünf Minuten nach drei Uhr.

So: 1. Es ist vier Uhr.

2. Es ist fünf M.....



1.



2.



3.



4.



5.



6.



7.



8.



9.




10.



1999/2000 ✨ Martina Müller

WIE SPÄT IST ES?



Schreib auf, wie spät es auf den 10 blauen Uhren ist!

Lies die Sätze genau, sie helfen dir bei dieser Aufgabe! ➡



Es ist fünf Uhr.



Es ist sechs Uhr.



Es ist fünf Minuten vor sechs Uhr.



Es ist fünf Minuten nach sechs Uhr.



Es ist fünf Minuten nach acht Uhr.

So: 1. Es ist zwei Uhr.

2. Es ist fünf M.....



1.



2.



3.



4.



5.



6.



7.



8.



9.



10.



1999/2000 ✨ Martina Müller