

RÄTSELREISE ÜBER DIE



RINGSTRASSE

VON: _____

1. Station:

Die Ringstraße wurde vor etwa _____ Jahren unter Kaiser _____ I. erbaut.

Mit der U__ fahren wir bis zum _____.

Dort nehmen wir den Ausgang _____ und stehen vor dem als erstes fertiggestellten

Bauwerk der Ringstraße.

Wie viele Arkadenbögen siehst du an der Ringstraßenfront der Oper?

Auf welchem Teilabschnitt der Ringstraße stehst du? _____

2. Station

Am Eingang des ehemaligen Kaisergartens
(heute: _____) befindet sich das
Denkmal von Johann Wolfgang von _____.

Im Burggarten steht auch das Denkmal von
_____ I.

Am Ende des Gartens befindet sich ein großes
_____ .

Das Denkmal des berühmten Komponisten, der
die „Zauberflöte“ komponierte, ist auch hier:

Was versteckt sich hinter dem Denkmal?

In der Grasfläche vor dem Denkmal ist ein ____
abgebildet.

3. Station

Auf welchem Teil der Ringstraße befinden wir
uns nun?

Burgring Opernring Stubenring

Welche Gebäude siehst du auf der
gegenüberliegenden Straßenseite?



Burgtheater

oder



Die Museen

Zwischen den beiden Museen steht das
_____ - _____ - Denkmal.

Wir gehen durch das neu erbaute B _____ -
ein Überrest der Stadtbefestigung - und kommen nun
zum H _____. Hier befinden sich die
_____ und die Denkmäler von _____
_____ und _____.

4. Station

Gleichzeitig mit dem Burggarten wurde der _____ angelegt. Hier finden wir verschiedene Denkmäler und einen Tempel. Kaiserin _____ (Sissi)-Denkmal Franz G_____ -Denkmal T_____ Tempel (Bild).



5. Station

Beim Ausgang des Volksgartens (ca. 25 Schritte nach links) befindet sich das Denkmal eines ehemaligen Bundeskanzlers. Er hieß J_____ R_____. Wir befinden uns nun auf dem Dr. _____ . Hier liegt das im antiken Baustil erbaute _____. Dort versammelt sich die Regierung und beschließt neue _____. Vor dem Parlament steht der P_____ - A_____ -Brunnen.

Wie heißt der Brunnen?

Die Zahlen stehen für den Buchstabenplatz im Alphabet:

16, 1, 12, 12, 1, 19 1, 20, 8, 5, 14, 5, 14

Die Figuren stehen für die 4 großen Flüsse in der Monarchie: D_____, Inn, Moldau, Elbe.

6. Station

Nun erreichen wir den nächsten Park vor dem Wiener _____.

Denkmäler welcher Personen kannst du finden?

Wer arbeitet im Rathaus?

Der Wiener B_____

Dr. Michael H_____.

Das Rathaus ist um 21 dm niedriger als

1 000 dm. Wie hoch ist es ? ____ m ____ cm

7. Station

Am Dr. Karl-Lueger-Ring befinden sich 3 wichtige Gebäude (Nummer eintragen):


- 1) Hier wird die Stadt Wien regiert!
- 2) Hier in der „Alma Mater Rudolphina“ kann man studieren!
- 3) Hier werden Sprechstücke aufgeführt!







8. Station

Wir steigen nun in die Straßenbahnlinie , mit der man die gesamte Ringstraße umfahren kann. Etwas abseits sieht man die

_____, die aus Dankbarkeit für Kaiser Franz Josefs Rettung erbaut wurde.

Wir fahren weiter über den Schottenring und sehen ein Gebäude aus rotem Backstein, die _____. Hier wurde mit Aktien gehandelt. Nach dem _____ mit seinem Wetterleuchtturm biegt die Straßenbahn auf den _____ Kai ein.

★
17 Leuchten zeigen das Wetter an:

rot aufsteigend =	Temperatur steigend
rot absteigend =	Temperatur fallend
grün aufsteigend =	Wetterlage wird besser
grün absteigend =	Wetterlage wird schlechter
rot blinkend =	Warnung Gewitter oder Sturm
weiß blinkend =	Schnee oder Glatteis

9. Station

Der Franz Josefs Kai verläuft entlang des _____. Über folgende Brücken kann man in den 2. Bezirk gelangen.

Rechts sehen wir die älteste Kirche Wiens, die _____

Sie wurde bereits vor 750 Jahren gebaut. Bevor wir den Stubenring erreichen, kann man rechts die _____ sehen. In diesem Gebäude befinden sich ein

Kas_____ ,
St_____ und ein K_____.

10. Station

Wir steigen aus der Straßenbahn aus und gehen durch den _____, der vom _____fluss in zwei Hälften geteilt wird. Hier finden wir auch eines der bekanntesten Denkmäler Wiens, das J_____ S_____(Sohn) Denkmal. Er komponierte den _____, den man immer zu Silvester kurz nach Mitternacht hört.

Vielleicht finden wir auf unserem Spaziergang auch noch andere Denkmäler von:

11. Station

Jetzt steigen wir wieder in die Straßenbahn ein und fahren entlang des Rings weiter.

Nach dem kurzen Abschnitt der Ringstraße, dem Sch_____, gelangen wir auf den Kärntnerring und sehen den Hochstrahlbrunnen am

_____. Er wurde anlässlich der Errichtung der 1. Wiener Hochquell_____ erbaut. Entlang dieses Abschnittes liegen viele Hotels und Geschäfte.

Zuletzt erreichen wir wieder den Opernring und fahren zurück in die Schule!

RÄTSELREISE ÜBER DIE



RINGSTRASSE



VON: Lehrerheft



1. Station:

Die Ringstraße wurde vor etwa 140 Jahren unter Kaiser Franz Josef I. erbaut.

Mit der U fahren wir bis zum Karlsplatz.

Dort nehmen wir den Ausgang Oper und stehen vor dem als erstes fertiggestellten Bauwerk der Ringstraße.

Wie viele Arkadenbögen siehst du an der Ringstraßenfront der Oper?

Auf welchem Teilabschnitt der Ringstraße stehst du? Opernring

2. Station


Am Eingang des ehemaligen Kaisergartens (heute: Burrgarten) befindet sich das Denkmal von Johann Wolfgang von Goethe. Im Burrgarten steht auch das Denkmal von Kaiser Franz Josef I.

Am Ende des Gartens befindet sich ein großes Glashaus (Palmenhaus).

Das Denkmal des berühmten Komponisten, der die „Zauberflöte“ komponierte, ist auch hier: Wolfgang Amadeus Mozart

Was versteckt sich hinter dem Denkmal?

Ein Relief mit Mozart als kleiner Bub.

In der Grasfläche vor dem Denkmal ist ein  abgebildet.

3. Station

Auf welchem Teil der Ringstraße befinden wir uns nun?

Burgring Opernring Stubenring

Welche Gebäude siehst du auf der gegenüberliegenden Straßenseite?



Burgtheater

oder



Die Museen

Zwischen den beiden Museen steht das Maria-Theresia-Denkmal.

Wir gehen durch das neu erbaute Burgtor - ein Überrest der Stadtbefestigung - und kommen nun zum Heldenplatz. Hier befinden sich die Neue Burg und die Denkmäler von Prinz Eugen und Erzherzog Karl.

4. Station

Gleichzeitig mit dem Burggarten wurde der Volksgarten angelegt. Hier finden wir verschiedene Denkmäler und einen Tempel.

Kaiserin Elisabeth (Sissi)-Denkmal

Franz Grillparzer-Denkmal

Theseus-Tempel (Bild).



5. Station

Beim Ausgang des Volksgartens (ca. 25 Schritte nach links) befindet sich das Denkmal eines ehemaligen Bundeskanzlers. Er hieß

Julius Raab. Wir befinden uns nun

auf dem Dr. Karl Renner

Ring. Hier liegt das im antiken Baustil

erbaute Parlament. Dort versammelt

sich die Regierung und beschließt neue

Gesetze. Vor dem Parlament steht

der Pallas Athene-Brunnen.

Wie heißt der Brunnen?

Die Zahlen stehen für den Buchstabenplatz im Alphabet:

16, 1, 12, 12, 1, 19 1, 20, 8, 5, 14, 5, 14

Die Figuren stehen für die 4 großen Flüsse in der Monarchie:

Donau, Inn, Moldau, Elbe.

6. Station

Nun erreichen wir den nächsten Park vor dem Wiener Rathaus.

Denkmäler welcher Personen kannst du finden?

Wer arbeitet im Rathaus?

Der Wiener Bürgermmeister_____

Dr. Michael Häupl_____.

Das Rathaus ist um 21 dm niedriger als
1 000 dm. Wie hoch ist es ? 97_m 90_cm

7. Station

Am Dr. Karl-Lueger-Ring befinden sich 3 wichtige Gebäude (Nummer eintragen):

- 1) Hier wird die Stadt Wien regiert!
- 2) Hier in der „Alma Mata Rudolphina“ kann man studieren!
- 3) Hier werden Sprechstücke aufgeführt!



Burgtheater

3



Universität

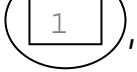
2




Rathaus

1

8. Station

Wir steigen nun in die Straßenbahnlinie , mit der man die gesamte Ringstraße umfahren

kann. Etwas abseits sieht man die _Votivkirche_, die aus Dankbarkeit für Kaiser Franz Josefs Rettung erbaut wurde.

Wir fahren weiter über den Schottenring und sehen ein Gebäude aus rotem Backstein, die _Börse_. Hier wurde mit Aktien gehandelt. Nach dem _Ringturm_ mit seinem  Wetterleuchtturm biegt die Straßenbahn auf den _Franz-Josefs-Kai_ ein.



17 Leuchten zeigen das Wetter an:

rot aufsteigend =	Temperatur steigend
rot absteigend =	Temperatur fallend
grün aufsteigend =	Wetterlage wird besser
grün absteigend =	Wetterlage wird schlechter
rot blinkend =	Warnung Gewitter oder Sturm
weiß blinkend =	Schnee oder Glatteis

9. Station

Der Franz Josefs Kai verläuft entlang des _Donaukanals_. Über folgende Brücken kann man in den 2. Bezirk gelangen.

Schwedenbrücke_____

Aspernbrücke_____

Marienbrücke_____

Rechts sehen wir die älteste Kirche Wiens, die _Ruprechtskirche_

Sie wurde bereits vor 750 Jahren gebaut. Bevor wir den Stubenring erreichen, kann man rechts die _Urania_ sehen. In diesem Gebäude befinden sich ein Kasperltheater_, eine Sternwarte_ und ein Kino_.

10. Station

Wir steigen aus der Straßenbahn aus und gehen durch den Stadtpark, _____ der vom Wienfluss in zwei Hälften geteilt wird. Hier finden wir auch eines der bekanntesten Denkmäler Wiens, das Johann _____ Strauß (Sohn)-Denkmal. Er komponierte den Donauwalzer, _____ den man immer zu Silvester kurz nach Mitternacht hört.

Vielleicht finden wir auf unserem Spaziergang auch noch andere Denkmäler von:

Schubert, Lehar, Stolz, Makart,
Bruckner, Schindler ... _____

11. Station

Jetzt steigen wir wieder in die Straßenbahn ein und fahren entlang des Rings weiter.

Nach dem kürzesten Abschnitt der Ringstraße, dem Schubertring, _____ gelangen wir auf den Kärntnerring und sehen den Hochstrahlbrunnen am Schwarzenbergplatz _____. Er wurde anlässlich der Errichtung der 1. Wiener Hochquellwasserleitung _____ erbaut. Entlang dieses Abschnittes liegen viele Hotels und Geschäfte.

Zuletzt erreichen wir wieder den Opernring und fahren zurück in die Schule!

Tipps zur Durchführung der Rätselreise über die Ringstraße

Dauer: etwa 4-5 Stunden

Station 1

Man begibt sich mit einer der U-Bahnen (U1, U2, U4) zur Station Karlsplatz und folgt der Beschilderung zur Oper. Wenn man Aufgang Oper hinaufgeht, so steht man links vor der Oper.

Nun geht man entlang des Opernrings in Fahrtrichtung auf der Innenstadtseite und kommt zum Eingang zum Burggarten, vor dem man das Denkmal von J.W. von Goethe findet.

Station 2

Betritt man den Burggarten, so hält man sich eher rechts und erblickt bald zur Linken das Franz -Josef I. -Denkmal. Weiter auf dem Weg kommt man zum Palmenhaus. Wenn man sich dann umdreht und entlang der Hofburgrückseite entlanggeht, kommt man direkt zum Denkmal von W. A. Mozart. Dem gegenüber ist ein Ausgang aus dem Garten wieder zurück auf den Ring. (Burgring)

Station 3

Nach dem Blick auf die beiden Museen kommt man linker Hand zum Burgtor und in der Folge zum Heldenplatz und der neuen Burg. Man überquert den Heldenplatz und geht Richtung „Volksgarten“. Rechts vom Cafe „Volksgarten“ ist der Eingang in den Park.

Station 4

Beim Durchwandern des Gartens sieht man den Theseustempel und hält sich dann wieder eher links, so kommt man zum Denkmal von Grillparzer. Dieser Platz eignet sich für eine PAUSE.

Station 5

Wenn man den Ausgang Richtung Burgtheater benützt, findet man noch das Elisabeth-Denkmal und nach dem Ausgang das von Julius Raab. Dann muss man allerdings wieder etwas gegen die Fahrtrichtung den Ring entlang gehen um vor dem Parlament zu stehen. Von dort aus spaziert man dann zum Rathauspark.

Station 6

Auf dem Weg zum großen Platz vor dem Rathaus trifft man auf einige Statuen, deren Namen die Kinder notieren können (Dr. Karl Renner ...). Auf dem Platz selbst könnte man sie dann auch alleine zu den Denkmälern schicken. Im Rathauspark befindet sich ein betreutes öffentliches WC. Kinder dürfen es kostenlos benutzen. Dann geht man wieder Richtung Burgtheater und steigt dort in die Linie 1 ein. Ab hier erfolgt die Besichtigung von der Straßenbahn aus.

Station 7-10

Beim Stadtpark kann man dann noch einmal aus der Straßenbahn aussteigen, durch den Stadtpark spazieren und gegebenenfalls auf einem Spielplatz noch eine Pause einlegen.
ACHTUNG: Ein Aussteigen erfordert einen dritten Fahrschein, da die Fahrt unterbrochen wird!

Station 11

Mit der Ringlinie 1 weiter bis zur Staatsoper (Karlsplatz) und die Heimfahrt antreten.
Man könnte auch eine weitere Runde mit dem Ringwagen fahren, und so noch einmal alle Gebäude ansehen und Gehörtes festigen.