


Arbeitsblatt - Berechnen des Unterschiedes

1. Hanni bekommt von ihren Großeltern 65 € 50 c, ihr Bruder erhält von seiner Taufpatin 75 € 45 c.

Um wie viel € und c hat der Bub mehr?



2. Familie Braun bezahlt für einen Einkauf 85 € 40 c. Im Supermarkt hätte sie dafür 49 € 38 c bezahlt.

Wie groß ist die Differenz?

3. Die Winkelgasse ist 546 m lang. Die Hauptstraße ist 899 m lang.

Um wie viel m ist die Hauptstraße länger?

4. Herr Süß verdient im Monat 989 € 56 c. Seine Frau verdient 856 € 50 c. Berechne den Unterschied!

5. Eine Schulklasse fährt mit einem Bus auf Ausflug.

Beim Reisebüro Elite würden sie 576 € 65 c bezahlen, beim Reisebüro Hoppauf würde die Reise 789 € 43 c kosten. Wie groß ist die Differenz?

6. Iris hat auf ihrem Sparbuch 157 € 40 c, Ronni hat 125 € 78 c. Berechne den Unterschied!

7. In Rolfs Wohnhaus wohnen 287 Leute. In Bärbels Wohnhaus wohnen 764 Menschen. Um wie viel Leute wohnen in Bärbels Haus mehr als in Rolfs Wohnhaus?

8. Ein Fernseher der Marke „Guck-ins-Land“ kostet 750 € 80 c.

Für einen Fernseher der Marke „Schau-hinein“ muss man 998 € 50 c bezahlen. Berechne den Preisunterschied.


9. Im ersten Geschäft kostet ein Handmixer 45 € 54 c, in einem anderen Geschäft verlangt man 63 € 65 c.

Wie groß ist der Preisunterschied?


Arbeitsblatt Obst

(Multiplizieren mit ganzen Zehnern)

1. Ein Obsthändler lädt auf seinen LKW 224 Steigen Birnen zu je 10 kg auf. Am Markt lädt er 1800 kg davon ab. Den Rest bringt er in ein Obstgeschäft. Dort wird dieser Rest in Säcke zu je 5 kg abgepackt. Wie viele Säcke werden gefüllt?
2. Ein Obsthändler füllt Äpfel in 25 Säcke zu je 50 kg. Wie viele Tonnen und Kilogramm sind das?
3. Ein Obsthändler befördert auf seinem LKW 45 Kisten zu je 30 kg Äpfel. Wie viele t und kg sind das?
4. Auf einem LKW sind 35 Kisten zu je 70 kg Äpfel und 32 Säcke zu je 20 kg Birnen. Wie schwer ist die gesamte Obstmenge?
5. Ein Obsthändler verkauft 25 Kiwis zu je 20 c und 16 Avocados zu je 50 c. Wie viel € und c nimmt er dafür ein?
6. 1 kg Bananen kostet 1 € 45 c, 1 kg Äpfel 89 c. Für den Zirkus werden 30 kg Bananen und 40 kg Äpfel gekauft. Wie viel kostet alles zusammen?
7. 1 Kiste Äpfel kostet 23 € 45 c. Der Tiergarten kauft 30 Kisten. Wie viel muss bezahlt werden?
8. In einem Netz mit Mandarinen sind 12 Stück. Wie viele Mandarinen hat der Händler verkauft, wenn er 50 Netze verkauft hat?



Arbeitsblatt - Dividieren durch einstelligen Divisor



1. Susi, Petra und Mario bekommen miteinander 566 € von den Großeltern. Wie viel bekommt jedes Kind, wenn der Betrag gerecht geteilt wird?

2. Eine Reise für 4 Personen kostet 992 €. Wie viel muss jeder bezahlen?



3. Drei Micky-Maus-Hefte kosten zusammen 7 € 65 c. Berechne den Preis von einem Heft.

4. Die 4 Kinder einer Familie bekommen von ihrer Tante 13 € 45 c, von der Großmutter 56 € und von ihrem Großvater 20 € 50 c. Berechne, wie viel jedes der Kinder auf sein Sparbuch legen kann.

5. Ein Band ist 20 m 46 cm lang. Es wird auf 6 Teile geteilt. Wie groß ist dann jedes Stück?

6. 895 l Wein werden auf 5 Fässer aufgeteilt. Wie viel Liter Wein befinden sich dann in einem Fass?

7. 747 Kilo Weizenmehl werden auf 9 Säcke aufgeteilt, Wie viel wiegt jeder Sack?


8. Ein Papierstreifen, der 27 cm 2 mm lang ist, wird auf vier Teile geteilt. Wie lang ist jeder Papierstreifen?

9. 762 m Wolle werden zu 3 Knäuel aufgerollt. Wie viel Meter Wolle sind dann auf jedem Wollknäuel?

10. 456 Äpfel werden in Netze gegeben. Wie viele Äpfel kommen in ein Netz, wenn man 8 Netze hat?

11. Teile 567 € 84 c auf 7 Leute auf. Wie viel bekommt jeder?

Arbeitsblatt: Bruchteile



1. Der vierte Teil einer Zahl ist 672 . Wie groß ist die ganze Zahl?
2. Ein Kühlschrank kostete 998 € . Im Abverkauf kostet er nur mehr die Hälfte. Wie viel muss man nun bezahlen?
3. Eine Zahl heißt 984 . Berechne den sechsten Teil.
4. Berechne ein Fünftel von 895 und dann berechne ein Drittel von 858. Was ist mehr?
5. Der siebte Teil einer Zahl ist 364. Wie groß ist die ganze Zahl?
6. Um wie viel ist die Hälfte von 5658 größer als das Viertel von 9564?
7. Berechne das Doppelte von 579. Wie viel ist das?
8. Der Vater verdient 3729 € . Die Mutter verdient nur den dritten Teil davon. Wie viel verdient sie?
9. Ein Kasten kostete im vorigen Monat 477 € . Nun ist er im Abverkauf um ein Drittel billiger. Wie viel muss man jetzt bezahlen?