





Sachrechnungen 2 Rechnungen	Karte 1	Sachrechnungen	Karte 2
<p>In einem Hotel in der Steiermark sind derzeit 12 Zimmer belegt. In jedem Zimmer nächtigen derzeit 2 Personen. Wie viele Personen schlafen im Hotel? Für ein Zimmer verrechnet der Hotelbesitzer 18 € . Wie viel muss eine Person bezahlen?</p>		<p>18 Kinder verbringen ihre Schullandwoche in einem Gasthof in Alpl. Sie bleiben 5 Tage dort. Für jedes Kind werden pro Tag 17 verrechnet. Wie viel bezahlt 1 Kind? Zusatzfrage: Wie viel bezahlen alle Kinder?</p>	
Sachrechnungen 1 Rechnung	Karte 3	Sachrechnungen 1 Rechnung	Karte 4
<p>Gabi und Hans waren in den Ferien 2 Tage mit dem Fahrrad unterwegs. Am 1.Tag sind sie 56 km geradelt. Am 2. Tag sind sie 49 km gefahren. Wie viele Kilometer sind sie insgesamt gefahren?</p>		<p>Barbara macht mit ihren Eltern eine 2-tägige Wanderung. Am 1. Tag steigen sie 1300 m hoch, am 2. Tag nur 700 m. Wie hoch sind sie gestiegen?</p>	

Sachrechnungen
1 Rechnung



Karte 5

Auf dem Weg zu ihrem Urlaubsziel haben sich Touristen verfahren. Statt 980 km sind sie 1100 km gefahren.
Wie viele Kilometer sind sie zu viel gefahren?

Sachrechnungen
1 Rechnung



Karte 6

Ein Taxifahrer war letzte Woche viel unterwegs. Am Montag fuhr er 134 km, am Dienstag 98 km, am Mittwoch 112 km, am Donnerstag 76 km und am Freitag legte er 90 km zurück.
Wie viele Kilometer fuhr er letzte Woche?

Sachrechnungen
1 Rechnung



Karte 7

Frau Huber kauft einen Pullover um 33 €, ein Paar Schuhe um 58 € und eine Bluse um 21 € .
Wie viele Euro muss sie zahlen?



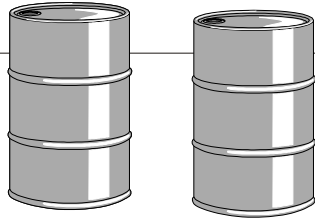
Sachrechnungen
2 Rechnungen

Karte 8

Herr Bachbauer hat heuer 448 kg Äpfel und 236 kg Birnen geerntet. Herr Moser hat 385 kg Äpfel und 258 kg Birnen geerntet.
Wer hat mehr Obst geerntet?



Sachrechnungen
1 Rechnung




Karte 9

Herr Schneider lässt vor dem Winter seinen Heizölvorrat ergänzen. Er hat noch 378 l im Öltank. Der Tank kann 850 l fassen. Wie viele Liter Öl muss er kaufen?

Sachrechnungen
1 Rechnung

Karte 10


Ein LKW ist mit 1000 kg Kohle beladen. Er liefert bei Frau Holzer 650 kg Kohle ab. Wie viele Kilogramm hat er noch geladen?



Sachrechnungen
2 Rechnungen

Karte 11


Ein Lieferwagen hat 10000 kg Holz geladen. Er liefert bei Herrn Meier 450 kg und bei Herrn Müller 370 kg Holz ab. Wie viele Kilogramm hat er noch geladen?



Sachrechnungen
2 Rechnungen

Karte 12

Herr Leitner hat im Spielzeuggeschäft für seinen Sohn eingekauft. Er hat für ein Spiel 27 € und für ein Buch 13 € ausgegeben. Er bezahlt mit einem 100 €-Schein. Wie viele Euro bleiben ihm noch?




Sachrechnungen
2 Rechnungen



Karte 13

Frau Hofer kaufte für ihre Tochter ein Kleid um 31 €, eine Hose um 19 € und ein Paar Schuhe um 18 € .
Sie zahlte mit einem 100 €-Schein.
Wie viele Euro erhielt sie zurück?

Sachrechnungen
1 Rechnung



Karte 14

Eine Bluse kostet 14 €.
Frau Klein kaufte für ihre 3 Töchter je eine Bluse.
Wie viele Euro hat sie ausgegeben?

Sachrechnungen
1 Rechnung

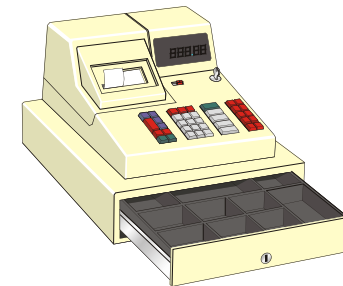
Karte 15

7 Hemden kosten 56 €.
Wie viel kostet 1 Hemd?



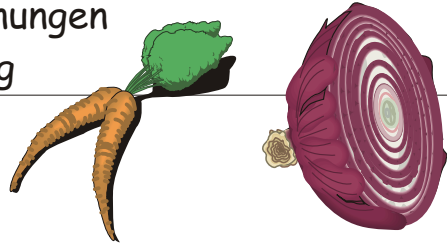
Sachrechnungen
1 Rechnung

Karte 16



3 Handtücher kosten 27 €.
Was kostet ein Handtuch?

Sachrechnungen
1 Rechnung



Karte 17

Der Bauer erntet 127 kg Kartoffeln,
256 kg Zwiebeln und 184 kg Karotten.
Wie viele Kilogramm Gemüse hat er
insgesamt geerntet?




Sachrechnungen
1 Rechnung

Karte 18

In unserem Schulhaus gibt es 5 Klassen.
In jeder Klasse stehen 26 Sessel.
Wie viele Sessel stehen in den Klassen?




Sachrechnungen
1 Rechnung



Karte 19

Herr Huber kauft im Blumengeschäft
23 Astern. Eine Aster kostet 90 Cent.
Wie viele Cent bzw. Euro muss er bezahlen?

Sachrechnungen
1 Rechnung



Karte 20

Toni macht mit seinen Eltern einen
Praterbesuch. Eine Fahrt mit der
Hochschaubahn kostet 3 €. Er darf
achtmal fahren.
Wie viel müssen seine Eltern bezahlen?

Sachrechnungen
1 Rechnung

Karte 21

Ein Holzfäller arbeitet jeden Tag 8 Stunden.
Wie viele Stunden hat er in 7 Tagen
gearbeitet?



Sachrechnungen
2 Rechnungen

Karte 21

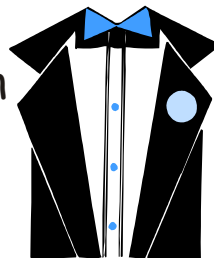
Eine Theaterkarte kostet 16 €. Tante Lisa
besorgt für ihre 2 Neffen und für ihre
Nichte Karten.
Wie viel muss sie bezahlen?



Sachrechnungen
1 Rechnung

Karte 23

Für einen Kinderanzug braucht man 2 m
Stoff. 1m kostet 26 €.
Wie viel kostet der Stoff für den
ganzen Anzug?




Sachrechnungen
1 Rechnung

Karte 24

Herr Monster trinkt täglich 53 l
Abwaschwasser (Er hat einen
etwas eigenwilligen Geschmack)
Wie viele Liter trinkt er in einer Woche?




Sachrechnungen
1 oder 2 Rechnungen



Karte 25

Ein Garten ist 146 m lang und 63 m breit.
Um den Garten wird ein neuer Zaun gespannt.
Wie viele Meter müssen gekauft werden?

Sachrechnungen
2 Rechnungen



Karte 26

Eine quadratische Wiese ($s=121\text{m}$)
wird dreimal mit Draht umspannt.
Wie viele Meter Draht werden gebraucht?

Sachrechnungen
4 Rechnungen



Karte 27

Herr Meiers Garten ist 89 m lang und
67 m breit. Herr Hubers Garten ist
quadratisch ($s=58\text{ m}$). Beide Grund-
stücke werden eingezäunt.
Welches Grundstück benötigt mehr
Zaun?

Sachrechnungen
5 Rechnungen

Karte 28

Ein rechteckiger Garten ($l=34\text{ m}$,
 $b=19\text{ m}$) soll dreimal mit Draht um-
spannt werden.

Das quadratische Blumenbeet
($s=28\text{ m}$) wird viermal mit Draht
umspannt.

Wie viele Meter Draht müssen gekauft
werden?

