

Sachaufgaben

- Lies den Text gründlich durch!
- Überlege, was du berechnen musst!
- Suche nach einem Lösungsweg!
- Rechne!
- Denk nach, ob das Ergebnis auch wirklich möglich ist!
- Formuliere eine Antwort!

Wir essen Palatschinken

Kurt möchte 3 Palatschinken essen. Lisa will nur 2 Palatschinken haben.

Wie viele Palatschinken muss Mama machen?



Susi macht Zitronenlimonade

Susi macht 6 Gläser Zitronenlimonaden. 2 Gläser fallen ihr auf den Boden und sind kaputt.


Wie viele Gläser Zitronenlimonaden hat sie noch?



Schwammerl suchen

Andrea findet 2 Pilze. Peter sogar 4.

Wie viele haben sie zusammen?



Vögel auf dem Baum

10 Vögel sitzen auf dem Ast, 4 fliegen fort.

Wie viele sind noch da?



Luftballons zerplatzen

Susi hat 7 Luftballons, 3 zerplatzen.

Wie viele hat sie noch?



Sparen

Monika spart 13 € und 5 €.


Wie viel € hat sie?



Im Sparschwein

Kurt hat in seinem Sparschwein 9 €. Er nimmt 4 € heraus.

Wie viel Geld hat er noch?



In der Geldbörse

Sandra hat 12 € im Sparschwein und 4 € in ihrem Geldtascherl.

Wie viel hat sie?



Faulige Birnen

In einem Korb liegen 15 Birnen, 3 davon sind faulig.

Wie viele Birnen sind gut?



In der Obstschüssel

In einer Schüssel liegen 6 Äpfel. Lisa gibt noch 4 Äpfel dazu.

Wie viele Äpfel liegen im Korb?



Viele Autos

Franz hat 13 Spielzeugautos. Er bekommt noch 4 Autos dazu.


Wie viele Autos hat Franz jetzt?



Die Naschkatze

Maria nimmt 2 mal 3 Zuckerln aus der Schachtel.

Wie viele Zuckerln sind es?



Im dunklen Keller

Peter geht 3 mal in den Keller. Er holt immer 2 Flaschen.

Wie viele Flaschen sind es?



Musik, Musik ...

Karina hat 21 Musikkassetten. Sie bekommt 4 dazu.

Wie viele hat sie jetzt?



In der Klasse

In einer Schulklasse sind 20 Kinder. 10 davon sind Buben.


Wie viele Mädchen sind es?



Bananen

Monika hat 6 Bananen. Sie isst 2 Bananen.


Wie viele Bananen hat sie noch?



Im Papiergeschäft

Markus hat 16 Buntstifte. Er möchte gerne 20 Buntstifte.

Wie viele muss er kaufen?



Im Blumengeschäft

Im Blumengeschäft gibt es 30 Rosen. 7 Rosen werden verkauft.

Wie viele sind noch da?



So viel Stoff

Eine Schneiderin hat 28 m Stoff. Sie schneidet 3 m weg.


Wie viele m bleiben?



Schulsachen

Sissi kauft fünf Bleistifte um 3 €, drei Radiergummis um 2 € und eine Mappe um 5 €.

Wie viel bezahlt sie?



Apfelsaft ist gesund

Ein Bauer hat 30 l Apfelsaft. Er leert 4 l heraus.

Wie viele l bleiben?



Das Korn wird gemahlen

Der Müller mahlt 8 kg und 4 kg Korn.

Wie viele kg sind es zusammen?



Auf dem Bauernhof

Im Stall stehen 9 Kühe. Der Bauer kauft 4 Kühe dazu.

Wie viele Kühe hat er?



Im Bus

Im Bus sind 6 Leute. Es steigen 7 Leute ein.


Wie viele Leute sind im Bus?



Alle meine Entlein ...

Im Wasser schwimmen 13 Enten. 4 tauchen unter.

Wie viele Enten sind oben?



Der Parkplatz

Auf dem Parkplatz stehen 7 Autos. 4 Autos kommen dazu.


Wie viele Autos sind es?



Die Mathematikstunde

Von 15 Rechnungen hat Petra schon 6 gelöst.

Wie viele muss sie noch lösen?



Tor, Tor!

In der Fußballmannschaft spielen 11 Buben. 2 davon verletzen sich.


Wie viele Kinder können weiter spielen?



Wo sind meine Kugeln?

Martina hat 7 Kugeln. Sie verliert 3 Kugeln.

Wie viele hat sie noch?



Bei der Haltestelle

In den Schulbus steigen bei der ersten Haltestelle 5 Kinder ein, bei der zweiten 3 Kinder und bei der dritten 1 Kind.

Wie viele Kinder sind im Bus?



Das Würfelspiel

Julia würfelt zuerst 4 Punkte und dann 3 Punkte.

Wie viele Punkte hat sie im Ganzen gewürfelt?



Auf der Weide

Auf der Weide grasen 4 Kühe und 5 Pferde.

Wie viele Tiere sind auf der Weide zu sehen?

