

Name: _____

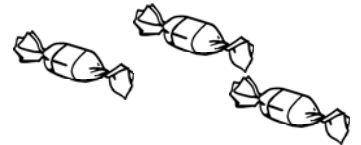
1. In der Klasse 2 b sind 20 Kinder. 6 davon sind krank.

Frage: Wie viele Kinder sind da?

Rechnung: _____

Antwort: _____

2. Tim hat 18 Bonbons. 9 Bonbons gibt er seinem Bruder.



Frage: Wie viele Bonbons hat Tim noch?

Rechnung: _____

Antwort: _____

3. Ina hat 12 €. Zum Geburtstag bekommt sie von ihrer Oma 7 € dazu.

Frage: Wie viel Euro hat Ina jetzt?

Rechnung: _____

Antwort: _____


4. Im Klassenzimmer sind 19 Stühle. Auf 16 Stühlen sitzen Schüler.

Frage: Wie viele Stühle sind noch frei?

Rechnung: _____

Antwort: _____

5. Im Hühnerstall vom Bauer Müller sind 8 Hühner.



Frage: Wie viele Beine haben alle Hühner zusammen?

Rechnung: _____

Antwort: _____

6. Opa hat 3 Fahrräder und 2 Autos.

Frage: Wie viele Räder haben alle Fahrzeuge zusammen?

Rechnung: _____

Antwort: _____

1. Nino hatte 16 Euro Taschengeld. Davon hat er 9 Euro ausgegeben.

Frage: _____

Rechnung: _____

Antwort: _____

2. 6 Kinder spielen mit dem Ball und 8 Kinder mit dem Seil.



Frage: _____

Rechnung: _____

Antwort: _____

3. In der Klasse 1b sind 20 Kinder. Halb so viele Kinder sind Mädchen.

Frage: Wie viele Kinder sind Buben?

Rechnung: _____

Antwort: _____

4. 14 Kinder üben. 9 davon üben mit dem Ball, die restlichen üben mit dem Seil.



Frage: Wie viele Kinder üben mit dem Seil?

Rechnung: _____

Antwort: _____

5. Opa hat 2 Katzen und 3 Meerschweinchen.

Frage: Wie viele Beine haben alle Tiere zusammen?

Rechnung: _____

Antwort: _____

6. Nina hat 9 Äpfel verschenkt und 4 Äpfel selbst gegessen.
Nun hat sie keine mehr.



Frage: Wie viele Äpfel hatte Nina?

Rechnung: _____

Antwort: _____

1. Auf dem Boden liegen 16 Kastanien und 7 Eicheln.

Frage: _____

Rechnung: _____

Antwort: _____

2. Tim hat 9 Blätter gefunden, Nina 8 und Lolli 7.



Frage: _____

Rechnung: _____

Antwort: _____

3. Auf dem Baum sind 50 Äpfel. 10 Äpfel sind hinunter gefallen.

Frage: Wie viele Äpfel hängen noch am Baum?

Rechnung: _____

Antwort: _____

4. Das Eichhörnchen hat 60 Nüsse versteckt. Nur 40 Nüsse hat es wieder gefunden.

Frage: Wie viele Nüsse hat das Eichhörnchen nicht gefunden?



Rechnung: _____

Antwort: _____

5. Auf einem Baum sitzen 12 Eichhörnchen, 8 Raben und 9 Eulen.



Frage: Wie viele Tiere sitzen auf dem Baum?

Rechnung: _____

Antwort: _____

6. Neben einem Baum stehen 2 Rehe, 3 Hirsche und 2 Vögel.

Frage: Wie viele Beine haben sie zusammen?

Rechnung: _____

Antwort: _____

1. Beim Aufblasen sind 5 Luftballons geplatzt. Nun können die Kinder nur noch 9 Luftballons aufhängen.

Frage: Wie viele Luftballons wollten sie aufhängen?



Rechnung: _____

Antwort: _____

2. Im Regal stehen 30 Bücher. Tina stellt noch 8 neue Bücher dazu.

Frage: _____

Rechnung: _____

Antwort: _____

3. Nina wirft 7 Flaschen in den braunen, 4 Flaschen in den weißen und 9 Flaschen in den grünen Behälter.

Frage: Wie viele Flaschen hat sie entsorgt?



Rechnung: _____

Antwort: _____

4. Nina hat zwei 10 €-Scheine, einen 5 €-Schein und drei 2 €-Münzen.

Frage: _____

Rechnung: _____

Antwort: _____

5. Lolli hat 19 € gespart. Davon kauft sie sich ein Buch für 12 €.

Frage: Wie viel Geld hat Lolli noch?



Rechnung: _____


Antwort: _____

6. Am Sonntag wurden 7 Fahrräder an Erwachsene ausgeliehen und doppelt so viele an Kinder.

Frage: Wie viele Fahrräder wurden am Sonntag insgesamt ausgeliehen?

Rechnung: _____

Antwort: _____



1. Im Bus ist Platz für 30 Fahrgäste. 24 Fahrgäste sind bereits eingestiegen.

Frage: Wie viele können noch einsteigen?

Rechnung: _____

Antwort: _____

2. Im Bus sind 30 Fahrgäste. An der nächsten Station steigen davon 5 aus.

Frage: Wie viele Fahrgäste fahren weiter?

Rechnung: _____

Antwort: _____

3. Im Bus sitzen 20 Fahrgäste. An der Mittelstation steigen 6 Fahrgäste aus und 4 steigen dazu.

Frage: Wie viele Fahrgäste fahren weiter?



Rechnung: _____

Antwort: _____

4. Im Bus sitzen 40 Fahrgäste. An der Endhaltestelle kommen nur 20 an.

Frage: Wie viele Fahrgäste sind dazwischen ausgestiegen?

Rechnung: _____

Antwort: _____

5. Im Bus sitzen 10 Frauen, 10 Männer und 6 Kinder.

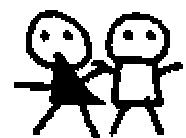
Frage: _____

Rechnung: _____

Antwort: _____


6. Im Bus sind 9 Frauen und doppelt so viele Kinder.

Frage: Wie viele Kinder sind im Bus?



Rechnung: _____

Antwort: _____



1. Die Schüler der Klasse 2b haben 22 Drachen gebastelt.
9 davon sind nicht fertig geworden.

Frage: _____

Rechnung: _____

Antwort: _____

2. Von 22 Drachen sind 7 rot, 8 blau und 4 grün.



Frage: Wie viele Drachen sind gelb?

Rechnung: _____

Antwort: _____

3. 16 Kinder haben ihren Drachen steigen lassen. 9 davon sind weggeflogen.

Frage: _____

Rechnung: _____

Antwort: _____

4. Nino hat zu Hause 7 Drachen. Lolli hat doppelt so viele.

Frage: _____

Rechnung: _____

Antwort: _____

5. Die Klasse 2b hat 20 Drachen. Die Klasse 2a hat nur halb so viele.

Frage: _____

Rechnung: _____

Antwort: _____

6. Die Mädchen haben 8 Drachen gebastelt. Jeder Drachen hat 2 Augen.

Frage: Wie viele Augen haben alle Drachen zusammen?

Rechnung: _____

Antwort: _____

1. Herr Koch kauft seiner Tochter ein Meerschweinchen.
Das Tier kostet 9 €. Außerdem kauft er noch einen Käfig für 22 €.

Frage: Wie viel Geld gibt Herr Koch aus?

Rechnung: _____

Antwort: _____



2. Nina hat in ihrer Spardose 27 €. Sie will sich ein Meerschweinchen für 8 € kaufen.

Frage: Wie viel Geld hat sie noch übrig?

Rechnung: _____

Antwort: _____

3. Pop feiert mit seinen Freunden eine Meerschweinchenparty. 23 Meerschweinchen sind eingeladen. Leider konnten 7 nicht kommen.

Frage: _____

Rechnung: _____

Antwort: _____

4. Pops Meerschweinchen frisst 20 Karotten. Lollis nur halb so viele.

Frage: _____

Rechnung: _____


Antwort: _____

5. Opa hat 4 Meerschweinchen und 3 Vögel.

Frage: Wie viele Beine haben alle Tiere zusammen.

Rechnung: _____

Antwort: _____



6. Ninas Meerschweinchen haben zusammen 12 Beine.

Frage: Wie viele Meerschweinchen hat sie?

Rechnung: _____

Antwort: _____